

La collina è un rilievo alto dai 200 ai 600 metri. Di solito tra le montagne e la pianura ci sono le colline. Come in pianura anche in collina l'uomo costruisce case e coltiva la terra. A questa altezza spesso c'è il vento e l'estate non è tanto calda.

Le colline non sono tutte uguali: ci sono alcune colline che hanno i versanti molto ripidi. Altre colline non hanno i versanti ripidi e sono facili da coltivare.

Per riuscire a coltivare le colline con i versanti ripidi gli uomini hanno costruito dei muri di pietra per fare delle terrazze. Le terrazze sono delle aree pianeggianti dove è più facile coltivare.

La collina e l'uomo

Dalla storia sappiamo che le antiche civiltà si svilupparono lungo i fiumi.

Successivamente molte popolazioni si spostarono sulle colline e costruirono i villaggi proprio sulle loro sommità.

Segna con una crocetta le risposte corrette.

Perché gli uomini preferirono costruire le loro case in collina piuttosto che in pianura?

Clima mite.

Assenza di acquitrini e zone malariche.

Possibilità di difesa dalle inondazioni.

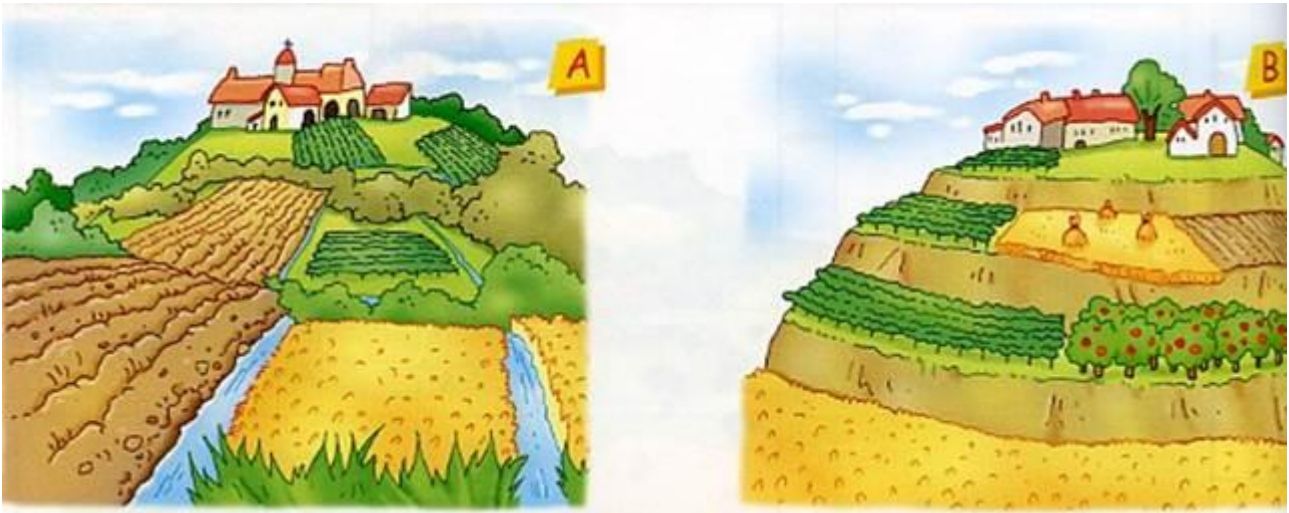
Presenza di terreni adatti alla coltivazione.

Possibilità di vedere il nemico.

Ricchezza d'acqua.

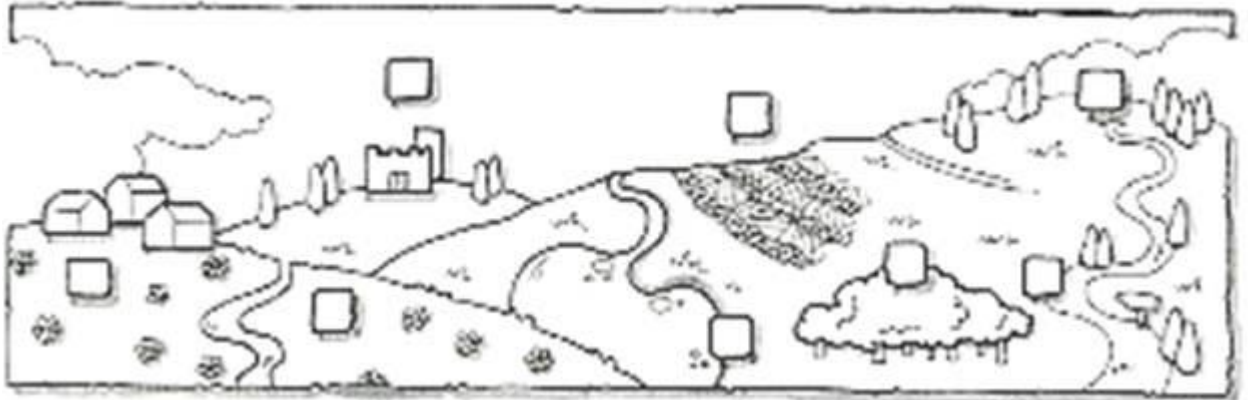
L'uomo, dopo aver disboscato le colline, le ha modificate per poterle abitare e per sfruttare meglio il terreno e il clima favorevole.

Scrivi la lettera giusta nella definizione appropriata



- Ha costruito terrazzamenti per ricavarne piccoli appezzamenti di pianura da coltivare.
- Ha scavato solchi per raccogliere l'acqua.

Osserva il disegno della collina e assegna ad ogni elemento il suo nome, numerando i quadratini



1. piccolo borgo
2. bosco
3. castello
4. terrazzamento
5. cima o vetta
6. ruscello
7. lago
8. Sentiero



Leggi e completa

Le e gli crescono bene in
perché il terreno è esposto al e, siccome è in pendenza, non trattiene troppa
..... .

L'uomo coltiva le viti per ricavare l' con la quale produce del buon
che viene portato nei negozi di tutta Italia e all'

Dalle si ricava ottimo extra vergine che si usa per
..... cibi sani e genuini.

L'agriturismo

Forse ti è già capitato di trascorrere ore piacevoli in un agriturismo.

In certe colline sono stati restaurati casolari o antiche ville per ricavarne strutture turistiche.

Qui si possono gustare piatti tipici, si può vivere a contatto con la natura, si può andare a cavallo, pescare nei laghetti.



In tempi recenti ha avuto grande sviluppo in collina una nuova forma di turismo, che coinvolge un numero sempre maggiore di aziende agricole: l'agriturismo. In vecchi

cascinali e fattorie, recuperati e trasformati in strutture accoglienti e confortevoli, i turisti trovano una piacevole e rilassante opportunità per stare a contatto con la natura e per riscoprire le antiche tradizioni: la preparazione del pane, la mungitura.

Le zone collinari in Italia sono abbastanza estese. L'attività di gran lunga più diffusa nelle zone collinari è l'agricoltura: infatti il lavoro dei campi occupa la maggior parte della popolazione collinare.

Che cosa si coltiva in collina?

Si può coltivare di tutto, ma è evidente che alcune produzioni sono più redditizie di altre. Per esempio, si possono coltivare i cereali (frumento, riso, mais), ma il rendimento di questi prodotti è più basso di quello che si ottiene nelle zone pianeggianti, perché in collina è molto più difficoltoso fare uso delle macchine, data la pendenza del suolo.

Questa difficoltà fa anche sì che i prodotti costino un po' di più rispetto a quelli delle zone dove invece l'uso delle macchine è comune.

Perciò, per la collina vengono scelte quelle produzioni per le quali l'uso delle macchine non è essenziale.

Ecco allora la produzione della frutta, che viene raccolta ancora a mano, come le ciliegie o le mandorle o le mele.

Ecco la coltivazione dell'ulivo, tipico un tempo delle alture liguri e prodotto oggi dalle colline toscane.

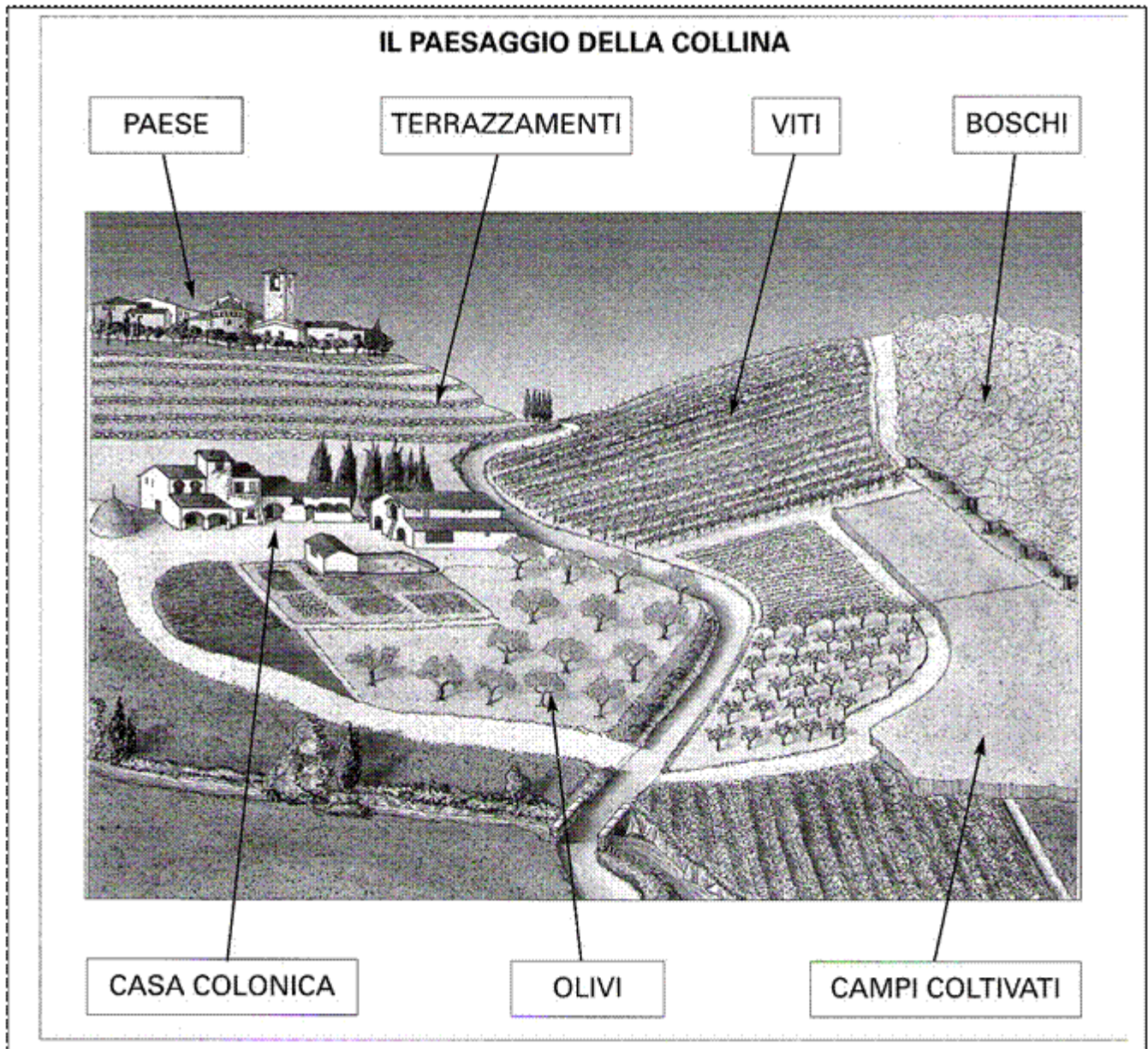
Ecco soprattutto la produzione di vite, presente in Italia un po' dappertutto.

Nelle zone più soleggiate vengono coltivati cereali, alberi da frutto, viti e olivi.

Sui pendii che rimangono più a lungo in ombra, dove cresce la vegetazione spontanea, si può praticare l'allevamento di mucche, di pecore e capre, di cavalli.

Le colline sono state abitate fin dall'antichità: erano un luogo sicuro sia per controllare dall'alto ampi territori e difendersi dai nemici, sia per sfuggire al clima poco salutare delle pianure paludose. Ecco perché nel passato vi sono state

costruite città e borghi fortificati; infatti, ancora adesso, in cima alle colline troviamo resti di castelli.



PROBLEMI PRINCIPALI

Per fare posto alle coltivazioni o per utilizzare il legno, sono stati tagliati numerosi alberi che con le loro radici mantenevano saldo il terreno. Il disboscamento è all'origine di numerose frane.

Recentemente molti cittadini si sono trasferiti in collina cercando tranquillità, ma in alcuni casi le troppe costruzioni hanno modificato il paesaggio.

LE ORIGINI DELLE COLLINE

Le **colline**, così come le montagne, hanno **origini molto antiche**.

Alcune di esse si sono formate in seguito a una lenta erosione delle montagne: sono le colline strutturali, modellate dalle piogge e dal vento nel corso dei secoli.

Le **colline tettoniche**, invece, si sono formate per il sollevamento del fondo del mare causato dai violenti terremoti in epoca preistorica.

Altre **colline**, poi, sono nate con l'accumularsi di detriti spinti a valle dai ghiacciai migliaia di anni fa (**colline moreniche**).

Esistono infine le **colline vulcaniche** che sono **antichi vulcani ormai spenti**.



Viaggio in Italia

Si incontrano aree collinari in ogni parte del territorio italiano.

A nord: le Langhe e il Monferrato in Piemonte, la Brianza in Lombardia, i Monti Berici e i Colli Euganei nel Veneto.

Al centro: i Monti del Chianti e le Colline Metallifere in Toscana, i Colli Laziali nel Lazio.

A sud: i Campi Flegrei in Campania, Le Murge in Puglia, i Monti Erei e Iblei in Sicilia. Inoltre, sono collinari circa due terzi del territorio dell'Umbria, delle Marche e della Sardegna.

Cerca sulla cartina le colline citate.

Quale importante area collinare si trova vicino alla zona dove abiti?

Sottolinea il suo nome sulla cartina.

Se non c'è, indicalo tu al posto giusto.

Tavola 2 - L'ITALIA DELL'AMBIENTE COLLINARE



► Sulla carta da lucido, colora di giallo gli spazi con il puntino.



Inventa una breve descrizione o un testo narrativo che abbia come spunto una di queste immagini (almeno 15 righe)



©2007 Fabrizio Battesta, Italy

